





ゆるりら、十和田こども検定 問題集

No	もん 問	だい 題	せん 選	たく 択	し 肢	
1		「十和田」という地名は、アイヌ語の「トーワタラ」が変化したものといわれている。アイヌ語で「トー」は湖を意味するが、「ワタラ」は何を意味するか。正しいものをひとつ選びなさい。	① 青	② 緑	③ 岩	④ 山
2		十和田市を含む青森県南地域では、6～7月の梅雨の時期に、太平洋側から冷たい風が吹き、農作物の成長に悪影響を与えることがあるが、この風のことを何というか。正しいものをひとつ選びなさい。	① 八甲田おろし	② ヤマセ	③ はやて	④ いなさ
3		十和田市の市の木は「もみじ」であるが、市の花は何か。正しいものをひとつ選びなさい。	① つつじ	② さくら	③ きく	④ うめ
4		数ある国営開墾事業の中でも特に規模が大きく、農林水産省発行の「戦後開拓史」で紹介されたことをきっかけに、十和田市と「日本三大開拓地交流」を行なっているのは、福島県矢吹町と、あと1つはどこか。正しいものをひとつ選びなさい。	① 福島県 会津若松市	② 秋田県 小坂町	③ 宮崎県 川南町	④ 長野県 飯田市
5		次のうち、「日本の滝百選」に選ばれた滝はどれか。正しいものをひとつ選びなさい。	① 銚子大滝	② 松見の滝	③ 雲井の滝	④ 白糸の滝
6		十和田市内で発見された次の遺跡のうち、縄文時代の遺跡はどれか。正しいものをひとつ選びなさい。	① 高見遺跡	② 六日町遺跡	③ 姫居遺跡	④ 明戸遺跡
7		1855(安政2)年、古くから荒れはてた原野だった三本木原の大規模開拓に取りかかった人物は誰か。正しいものをひとつ選びなさい。	① 伊能忠敬	② 安藤昌益	③ 新渡戸傳	④ 新渡戸稲造
8		1860(万延元)年、南部盛岡藩主・利剛公が三本木の様子を見るために訪れた際、人工河川(用水路)を「稲生川」と命名したが、そこに架かる橋を何と命名したか。正しいものをひとつ選びなさい。	① 稲生橋	② 三本木橋	③ 八甲田橋	④ 御幸橋
9		稲生川の延長や補修により開拓地拡大が進む頃、稲生川上流の古くからの地主と、下流に開拓地拡大を目指す開墾会社との間に、水の権利について争いが起こったが、これを解決した人物は誰か。正しいものをひとつ選びなさい。	① 新渡戸七郎	② 太田時敏	③ 渋沢栄一	④ 藤田重明

No	問 題	選 択 肢	選 択 肢	選 択 肢	選 択 肢
10	<p>軍馬補充部三本木支部は、全国にある支部の中でも最も規模が大きく、多くの分厩（馬の飼育施設）や牧場をまとめていたが、次のうち、分厩が置かれていなかった地域をひとつ選びなさい。</p>	① 切田	② 相坂	③ 赤沼	④ 元村
11	<p>1955(昭和30)年三本木町は町村合併により三本木市となり、その後、他の町村とも合併し、翌年十和田市となったが、三本木町や三本木市当時の合併に含まれなかった町村はどこか。正しいものをひとつ選びなさい。</p>	① 大深内村	② 藤坂村	③ 四和村	④ 十和田町
12	<p>現在の十和田市は旧十和田市と旧十和田湖町が合併し、青森県内の新設合併第1号として誕生したものであるが、合併したのはいつか。正しいものをひとつ選びなさい。</p>	① 2000(平成12)年 1月1日	② 2004(平成16)年 7月1日	③ 2005(平成17)年 1月1日	④ 2005(平成17)年 7月1日
13	<p>1936(昭和11)年「十和田国立公園」として指定された、十和田湖、奥入瀬溪流、八甲田山を含む一帯は、1956(昭和31)年に追加指定された八幡平、岩手山、秋田駒ヶ岳を含む一帯とあわせ、2つの地域からなる国立公園となった。現在のこの国立公園を何と呼ぶか。正しいものをひとつ選びなさい。</p>	① 十和田八甲田 国立公園	② 十和田八幡平 国立公園	③ 十和田岩手 国立公園	④ 十和田秋田 国立公園
14	<p>十和田湖は二重カルデラ湖として知られる湖であるが、カルデラ湖の説明として正しいものをひとつ選びなさい。</p>	① 地殻変動により 形成された湖	② 氷河により 形成された湖	③ 人工的に 造られた湖	④ 火山活動により 形成された湖
15	<p>十和田湖の中で、もっとも水深が深いエリアはどこか。正しいものをひとつ選びなさい。</p>	① 北湖	② 東湖	③ 西湖	④ 中湖
16	<p>十和田湖畔休屋地域で、青森県と秋田県の県境となっている川を何というか。正しいものをひとつ選びなさい。</p>	① 両国川	② 神田川	③ 県境川	④ 十和田川
17	<p>十和田湖の国立公園指定15周年を記念して制作された裸婦像「乙女の像」の作者は誰か。正しいものをひとつ選びなさい。</p>	① 高村光雲	② 岡本太郎	③ 佐藤忠良	④ 高村光太郎
18	<p>十和田湖伝説の中で、大蛇になった八之太郎（八郎太郎）と7日7夜闘って勝利したとされる者は誰か。正しいものをひとつ選びなさい。</p>	① 南祖坊	② 武蔵坊	③ 八甲坊	④ 奥瀬坊

No	問 題	選 択 肢	選 択 肢	選 択 肢	選 択 肢
19	十和田湖から流れ出る唯一の川である奥入瀬川のうち、子ノ口から焼山の十和田橋までを奥入瀬溪流と呼ぶが、その距離は約何kmか。正しいものをひとつ選びなさい。	① 9km	② 14km	③ 19km	④ 24km
20	奥入瀬溪流沿いには多数の滝があることから「瀑布街道」とも呼ばれているが、次のうち、奥入瀬溪流沿いには無い滝をひとつ選びなさい。	① 九段の滝	② 高田大滝	③ 不老の滝	④ 白布の滝
21	奥入瀬川本流にかかる唯一の滝である銚子大滝の高さは約7mであるが、幅は約何mか。正しいものをひとつ選びなさい。	① 10m	② 15m	③ 20m	④ 25m
					
22	奥入瀬溪流にある「石ヶ戸」の名前は、この地方の方言で何という意味か。正しいものをひとつ選びなさい。	① 石でできた戸	② 水をせき止める石	③ 石でできた小屋	④ 大きな石
23	次の八甲田山にある山のうち、最も標高の高い山はどれか。正しいものをひとつ選びなさい。	① 大岳	② 赤倉岳	③ 櫛ヶ峰	④ 乗鞍岳
24	1986(昭和61)年に「日本の道100選」にも選ばれた十和田市官庁街通りの全長は約何kmか。正しいものをひとつ選びなさい。	① 1.1km	② 1.3km	③ 1.5km	④ 1.7km
25	十和田市官庁街通りは、馬の街としての伝統や文化を受け継ぐ馬のブロンズ像が置かれていることから、何といわれて市民に親しまれているか。正しいものをひとつ選びなさい。	① 産馬通り	② 駒街道	③ 駒ロード	④ 新駒通り
26	十和田市のシンボルロードとして市民から親しまれている十和田市官庁街通りの桜の木は何本あるか。正しいものをひとつ選びなさい。	① 156本	② 161本	③ 164本	④ 165本
27	18世紀後半の建てられたと思われる、この地方の農家の典型的な住宅で、1973(昭和48)年に国の重要文化財に指定され、現在は一般公開されている施設はどこか。正しいものをひとつ選びなさい。	① 旧山田家住宅	② 旧笠石家住宅	③ 旧中村家住宅	④ 旧小笠原家住宅
					

No	もん 問	だい 題	せん 選	たく 択	し 肢	
28		人工河川（用水路）「 <small>いなおいがわ</small> 稲生川」は、1859(<small>あんせい</small> 安政6)年、 <small>おいらせがわ</small> 奥入瀬川から三本木まで約39kmの川として完成したが、その日にちはいつか。正しいものをひとつ選びなさい。	① 4月29日	② 5月4日	③ 9月11日 ④ 11月3日	
29		<small>にとべ</small> 新渡戸三代のお墓を中心とした公園となっている <small>たいそづか</small> 太素塚の、「太素」の名前は何かからとったものか。正しいものをひとつ選びなさい。	① <small>にとべ</small> 新渡戸家の <small>ぼだいじ</small> 菩提寺	② <small>にとべ</small> 新渡戸家の先祖 が住んでいた 場所の地名	③ <small>にとべつどう</small> 新渡戸傳の <small>ようみょう</small> 幼名 ④ <small>にとべつどう</small> 新渡戸傳の <small>ごう</small> 号(呼び名)	
30		<small>たいそづか</small> 太素塚の中央に置かれている <small>にとべ</small> 新渡戸三代（ <small>つどう</small> 傳・ <small>じゅうじろう</small> 十次郎・ <small>いなぞう</small> 稲造）の銅像の制作者で、 <small>おとめ</small> 十和田湖にある乙女の像の制作にも助手としてかかわった人物は誰か。正しいものをひとつ選びなさい。	① <small>ふるかわたけし</small> 古川武治	② <small>こさかけいじ</small> 小坂圭二	③ <small>みくにけいいち</small> 三國慶一 ④ <small>すすきまさはる</small> 鈴木正治	
31		<small>たいそづか</small> 太素塚入口にある鳥居型の門の高さは何mか。正しいものをひとつ選びなさい。				
32		「三本木」の地名のもとになったといわれる、しろたもの大木があった場所には、現在神社が建てられている。この神社の名前は何か。	① <small>おおしみずじんじや</small> 大清水神社	② <small>さんぼんぎじんじや</small> 三本木神社	③ <small>いなおいじんじや</small> 稲生神社 ④ <small>たいそじんじや</small> 太素神社	
33		カトリック十和田教会の建物は、東京の <small>かんだ</small> 神田教会や <small>じょうち</small> 上智大学、 <small>はこだて</small> 函館のトラピスチヌ修道院などの設計で知られる、スイス人建築家マックス・ヒンデルの設計によるものであるが、この建築は何と呼ばれるものか。正しいものをひとつ選びなさい。				
34		<small>とうどうせいひょうひ</small> 東道旌表碑は、ある戦争に備えて <small>ひろさき</small> 弘前第31連隊の訓練案内人を務めた、 <small>かかわ</small> 柏地区青年7人の功績をたたえて建てられた <small>せきひ</small> 石碑であるが、その戦争とは何か。正しいものをひとつ選びなさい。	① <small>にっしんせんそう</small> 日清戦争	② <small>にちろせんそう</small> 日露戦争	③ <small>だいいちじ</small> 第一次 <small>せかいたいせん</small> 世界大戦 ④ <small>だいにじ</small> 第二次 <small>せかいたいせん</small> 世界大戦	